



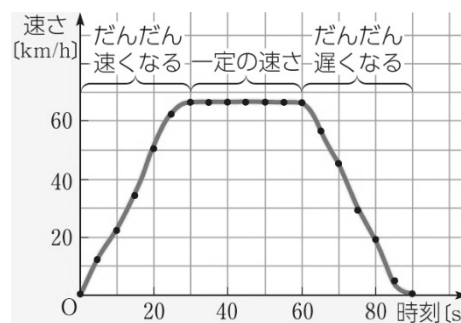


年 組 番 氏名

## 2. 平均の速さと瞬間の速さ

- ・グラフから電車の速さは、駅を発車してからだんだんと〔 〕なり、その後〔 〕となる。
- ・やがて次の駅に近づくと、だんだんと〔 〕なって停車する様子を読み取れる。

- ・2つの駅間の距離を、経過時間で割った量は、この電車の〔 〕を表している。
- ・スピードメーターの値は刻々と変化しており、各時刻における電車の速さを示している。これを〔 〕という。
- ・一般に、速さといえば、〔 〕をさす。



### ▲ 電車の速さの変化

ある時刻での電車の速さ

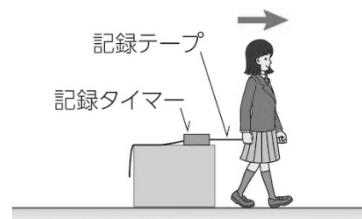


### ▲ 電車の速さの変化

電車のスピードメーター(中央)

### やってみよう 人の運動の分析

- ① 記録テープの一端を持ち、一定の速さで歩く。
- ② テープの各区間の速さを調べる。
- ③ 速さと時間の関係をグラフで表す。
- ④ 平均の速さをグラフに描き入れて比較しよう。



### 参考 速さの単位の変換

・速さの単位は、距離の単位の関係  $1 \text{ km} = [ \quad ] \text{ m}$  などと、時間の単位の関係  $1 \text{ h} = [ \quad ] \text{ s}$  などを用いて変換することができる。

・例えば、 $90 \text{ km/h}$  という速さの単位を次のように  $\text{m/s}$  に変換できる。

$$90 \text{ km/h} = 90 \times \frac{1 \text{ km}}{1 \text{ h}} = 90 \times \frac{1000 \text{ m}}{3600 \text{ s}} = 25 \times \frac{1 \text{ m}}{1 \text{ s}} = 25 \text{ m/s}$$

問2 自転車 が 30 s 間に 150 m 走ったとき、自転車の平均の速さは何  $\text{m/s}$  か。また、何  $\text{km/h}$  か。



年 組 番 氏名

**B** 等速直線運動

1. 等速直線運動を表す式

・直線上を一定の速さで進む物体の運動を〔 〕という。


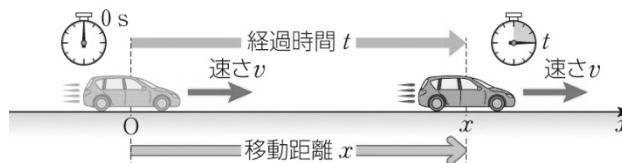
**等速直線運動** 条件：直線上の運動で速さが一定

$x = [ \quad ]$  (2)

$x$  [m] 移動距離

$v$  [m/s] 速さ

$t$  [s] 経過時間



▲ 等速直線運動をする模型自動車のストロボ写真(発光間隔 0.2 s, 目盛り単位 cm)

問3 長い直線道路を一定の速さで走る自転車が 30 s 間に75 m 進んだ。自転車の速さを求めよ。また、50 s 間に進む距離を求めよ。

Memo

---

---

---

---

---

---

---

---

---

---

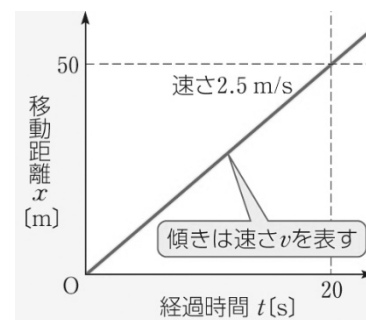


年 組 番 氏名

## 2. 等速直線運動を表すグラフ

・物体が等速直線運動をする場合、移動距離  $x$  と経過時間  $t$  との関係を表すグラフは傾きが〔 〕の直線となる。

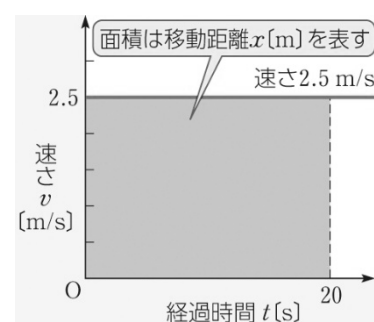
・傾きは、物体の〔 〕を表している。



▲ 等速直線運動の  $x-t$  グラフ

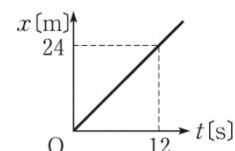
・物体が等速直線運動をする場合、速さ  $v$  と経過時間  $t$  との関係を表すグラフは  $t$  軸に〔 〕な直線となる。

・ $t$  [s] 間の〔 〕は、その間のグラフと  $t$  軸で囲まれた部分の面積で表される。



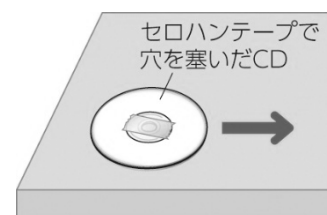
▲ 等速直線運動の  $v-t$  グラフ

問4 ある物体が等速直線運動をしている。このとき、物体の移動距離  $x$  と経過時間  $t$  の関係は右図の  $x-t$  グラフのように表された。この物体の速さは何 m/s か。



### やってみよう 等速直線運動

- ① CD の穴をラベル面側からセロハンテープを貼って塞ぐ。
- ② ラベル面を上にしてなめらかな机の上ですべらせる。
- ③ 運動の様子を撮影し、物体の位置や速さの変化を調べる。



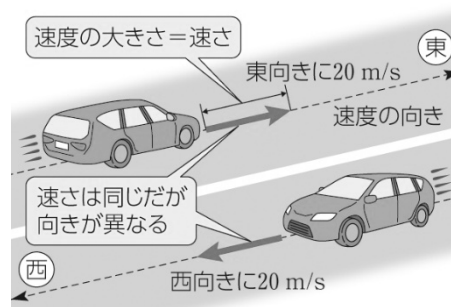


年 組 番 氏名

**C** 変位と速度

**1. 速度**

- ・速さと運動の向きを合わせた量を考えて運動の状態を表すことにし、これを〔 〕という。
- ・物体が直線上を運動する場合、直線の方のどちらかの向き<sup>①</sup>を正として座標軸をとることで、速度の〔 〕を正負の符号で表すことができる。
- ・速度のように、大きさと向きをもつ量を〔 〕という。

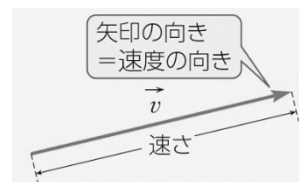


▲ 速さと速度

**問5** 東西方向の高速道路を、自動車Aは東向きに 20 m/s、自動車Bは西向きに 25 m/s の速さで走っている。東向きを正の向きとして、それぞれの速度を答えよ。

**速度ベクトル**

- ・速度をベクトルとして記号で表すときは〔 〕のように書き、図示するときは矢印で表す。
- ・矢印の向きは速度の〔 〕を表し、矢印の長さは速度の〔 〕 (速さ)に比例するように描く。
- ・速度は単に〔 〕と表すこともある。



▲ 速度ベクトル 速度ベクトルの大きさは、速さを表す。

Memo

---

---

---

---

---

---

---

---

---

---

①「方向」は例えば「南北方向」や「上下方向」のように一直線で表され、「向き」は例えば「北向き」「南向き」のように矢印で表すことができる一方をさす。



年 組 番 氏名

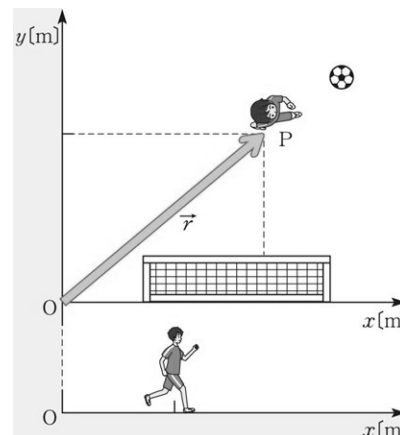
## 2. 位置ベクトル

- ・物体の〔 位置 〕は、座標で表すことができる。
- ・原点  $O$  から矢印を引いて 点 $P$  の位置を表す。

この矢印を〔 位置ベクトル 〕という。

物体の位置を、原点から見たときの向きと距離で示す。

- ・位置ベクトルを  $\vec{r}$  と書くと、
  - $\vec{r}$  が向きと大きさを持つ量
  - $r$  は距離のみを表す量



## 3. 変位

- ・移動した物体の 初めの位置 から 終わり位置 に向かって引いた矢印は、物体の位置の変化を表している。

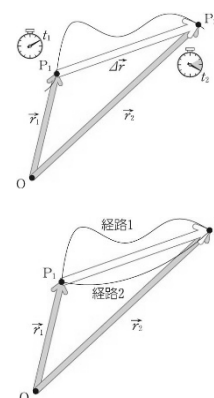
これを〔 変位 〕といい、位置が変化した向きと変化の大きさを表す。

- ・変位と位置ベクトルの関係は

$$\Delta\vec{r} = \vec{r}_2 - \vec{r}_1$$

で表される。

- ・変位は途中の経路に関係しない。



**問6**  $x$  軸上の  $x=2.0\text{ m}$  の位置にあった物体が  $x$  軸上を運動し、 $x=5.0\text{ m}$  の位置に移動した。この間の物体の変位の大きさは何mか。また、変位の向きはどちら向きか。



年 組 番 氏名

#### 4. 平均の速度と瞬間の速度

- ・ある時間に物体が P<sub>1</sub> から P<sub>2</sub> へ移動するとき、単位時間あたりの変位を、この間の [ ] という。
- ・平均の速度もベクトルであり、経過時間  $\Delta t$  ( $=t_2-t_1$ ) の間の変位が  $\Delta \vec{r}$  ( $=\vec{r}_2-\vec{r}_1$ ) であるので、

$$\vec{v} = \frac{\vec{r}_2 - \vec{r}_1}{t_2 - t_1} = \frac{\Delta \vec{r}}{\Delta t}$$

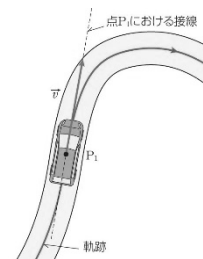
- ・ $\vec{v}$  の大きさ  $|\vec{v}|$  は  $\frac{|\Delta \vec{r}|}{\Delta t}$  に等しく、 $\vec{v}$  の向きは  $\Delta \vec{r}$  の向きと一致する。

- ・ $t_2$  を  $t_1$  に近づけて  $\Delta t$  を限りなく 0 に近づけると、P<sub>2</sub> は P<sub>1</sub> に近づくので、式(1)は P<sub>1</sub> を通過する時刻の [ ] を表す。

- ・ $\vec{v}$  は物体がその瞬間に、どの向きにどんな速さで進んでいるかを表し、 $\vec{v}$  の大きさ  $v$  を [ ] という。

- ・一般に、速度や速さといえば、瞬間の速度や瞬間の速さ を表す

- ・速度の方向は、その時刻における物体の位置で、軌跡に引いた [ ] の方向と一致する。



#### 速度(瞬間の速度)

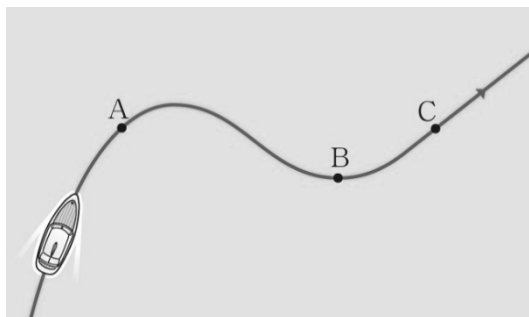
速度  $\vec{v} = \frac{\Delta \vec{r}}{\Delta t}$

速さ  $v = \vec{v} = \frac{|\Delta \vec{r}|}{\Delta t}$

速度の方向：軌跡の接線方向

$\vec{v}$	速度
$\Delta \vec{r}$	変位
$\Delta t$	経過時間
$v$	速さ

問 7 船が右の図の➡に沿って運動するとき、図中のそれぞれの点 A, B, C を通過する瞬間の速度の向きを図中に矢印で示せ。

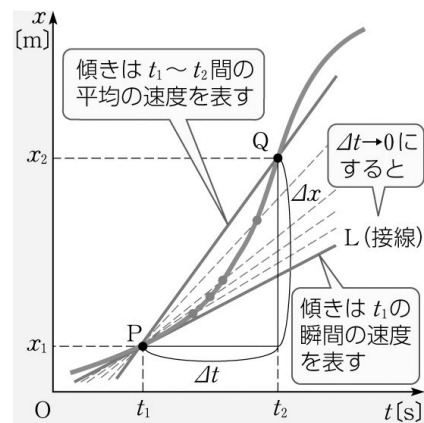




年 組 番 氏名

### 5. $x-t$ グラフと瞬間の速度

- ・物体の運動が図の  $x-t$  グラフで表されるとき、直線PQ の傾きは、時刻  $t_1$  から時刻  $t_2$  までの〔 〕を表す。
- ・時刻  $t_2$  を時刻  $t_1$  に限りなく近づけたとき ( $\Delta t$  を  $0\text{ s}$  に近づけたとき)、直線PQ は1 つの接線 L に近づく。
- ・接線 L の傾きは、時刻  $t_1$  における〔 〕を表す。



**問8** 止まっていた自動車が東向きに動き出して、10 s 後には止まっていたところから 50 m、20 s 後には 200 m の位置を走っていた。東向きを正として、動き出して 10 s 後から 20 s 後の間の平均の速度を求めよ。

Memo

---

---

---

---

---

---

---

---

---

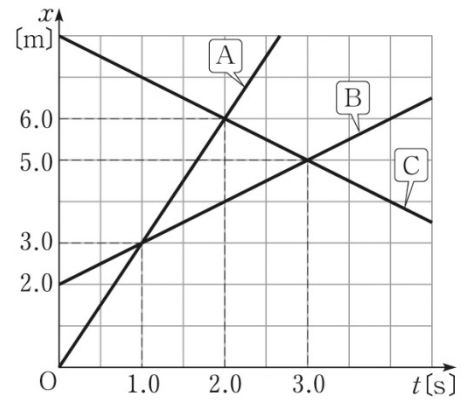
---



年 組 番 氏名

問9 右の図は、 $x$  軸上を等速直線運動する 3 つの物体A, B, C の  $x-t$  グラフである。

- (1) A, B, C の速度を求めよ。
- (2) 時刻  $t$  [s] における A, B, C の位置  $x_A$  [m],  $x_B$  [m],  $x_C$  [m] を、それぞれ  $t$  を用いて表せ。



Memo

---

---

---

---

---

---

---

---

---

---

